

BONJOUR A TOUS ! VOICI LE TRAVAIL DU JEUDI 11 JUIN

*Le compte est bon: on doit trouver le résultat avec les 3 opérations: + - x

165

2 - 4 - 10 - 4 - 3

*Conjugaison: L'année prochaine, je partirai faire un tour du monde et je verrai des merveilles.

L'année prochaine, les élèves

L'année prochaine, la petite fille

*Grammaire: souligne les verbes en rouge et les sujets en bleu

Aline aura bientôt dix-huit ans. Elle pourra passer le permis de conduire. Alors elle prendra la voiture de ses parents.

*Calcul mental: n° 24 page 11 Outils pour les maths Les compléments à 100

<https://www.logicieleducatif.fr/math/calcul/comp100.php>

*Vocabulaire : un mot, plusieurs sens

N°1, 2 et 3 page 250

Copier 3 fois les adjectifs : *quelconque - ravissant - recyclé - remarquable - renversant*

*Calcul posé : Pose en colonne et calcule : $6\ 012 \times 5$ et $3\ 987 \times 64$

*Géométrie : La symétrie

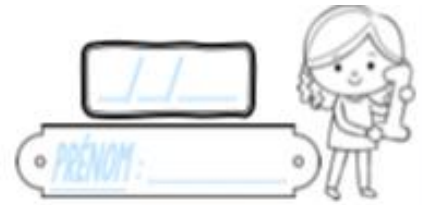
<http://www.mybleemath.com/fr/video/lecon-decouvre-la-symetrie>

https://www.youtube.com/watch?v=2A37XBxHuZU&feature=emb_rel_end

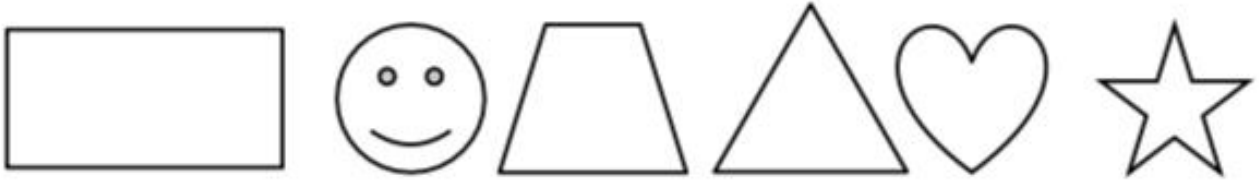
n°1 page 116 Outils pour les Maths

Geométrie

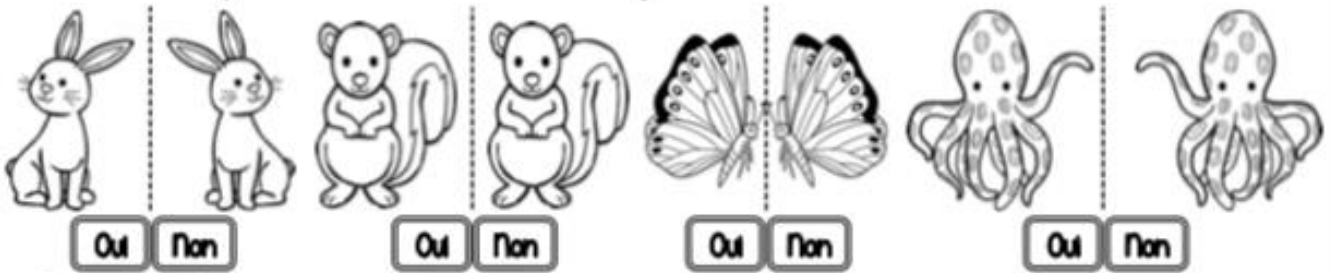
CM1



① Trace le(s) axe(s) de symétrie de ces figures.



② Les droites en pointillés servent-elles d'axes de symétrie ?



③ Dans ton cahier, trace un carré de 6 carreaux de côté, puis trace ses axes de symétrie.

<https://leclasssebleue.fr/>

Geométrie / Le carré de symétrie

*Jogging d'écriture : Allonge la phrase le plus possible : *Laurence gagne au loto. (Où ? Quand ? Comment ? Pourquoi ?)*

Chapitre 3 : MERCREDI

Prénom : _____

Date : _____



JOURNAL D'UN CHAT ASSASSIN

Lecture suivie n° 8

CHAPITRE 3 - PAGES 21 A 25 (suite)

Réponds aux questions en t'aidant du livre.

- Que fait Ellie à son chat lorsqu'elle trouve la souris ? (page 22)

Ellie _____ et
elle _____

- Que demande Ellie à son chat ? (page 22)

Ellie demande à Tuffy _____

- Pourquoi Tuffy a du mal à accepter ce que lui demande Ellie ?

- parce qu'il n'aime pas Ellie et qu'il ne veut pas lui faire plaisir.
- parce que c'est un chat et qu'il a besoin de chasser.
- parce qu'il n'aime pas les parents d'Ellie et qu'il veut leur faire de la peine.

- Observe l'illustration page 24. Recopie la phrase illustrée. (page 24)

- Que fait la famille d'Ellie de la souris morte ? (page 25)

La famille d'Ellie _____

- Pourquoi Tuffy pense que « cet endroit devient la Maison de la Rigolade » ? (page 25)

Tuffy pense que c'est la Maison de la Rigolade parce qu'il _____

- D'après toi, pourquoi Tuffy a-t-il raconté la mort de l'oiseau et celle de la souris dans son journal ?

Tuffy a raconté ces incidents parce qu'il _____

Lecture compréhension : <https://jerevise.net/jeux/inferences3/index.php>

Enregistre ton prénom et ton nom pour garder en mémoire tes résultats.

Faire les exercices : Textes cachés/ Le bon indice

*Découverte du monde : Espace : Les villes en France



Les habitations

3 Observe l'image ci-dessous et écris la lettre qu'il faut :

- 1 Immeuble collectif ancien : _____
- 2 Barre collective récente : _____
- 3 Tour collective récente : _____
- 4 Maison individuelle ancienne : _____
- 5 Maison individuelle récente dans un lotissement : _____

En ville il existe plusieurs sortes d'habitations :

- L'habitat collectif : ce sont de grands immeubles composés de nombreux appartements.

On distingue les beaux immeubles modernes dont le prix est un peu cher et les barres et tours qu'on appelle HLM destinés plutôt aux personnes à faibles revenus (les logement sociaux) sans terrasse ni balcon.

- L'habitat individuel : ce sont des maisons anciennes, des pavillons récents avec des jardins (qu'on appelle villa) ou des lotissements dont les maisons se ressemblent beaucoup.



4 Réponds.

1 Cite un avantage de l'habitat collectif :

2 Cite un avantage de l'habitat individuel :

5 Et toi ?

1 Entoure le type d'habitat dans lequel tu vis :

- tour récente - barre/tour - immeuble - maison individuelle avec jardin - maison jumelée - maison de village
- en centre-ville - en banlieue

2 Aimes-tu l'endroit où tu habites ? _____

Pourquoi ? _____

*[Quart d'heure artistique](#) : Une œuvre musicale du XIXème siècle : Chevauchée des Walkyries de Wagner

<https://www.youtube.com/watch?v=KMTRqAgLw04>