
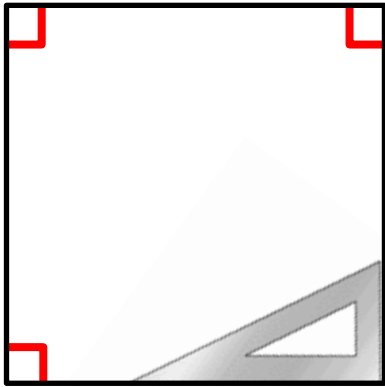



# L'angle droit

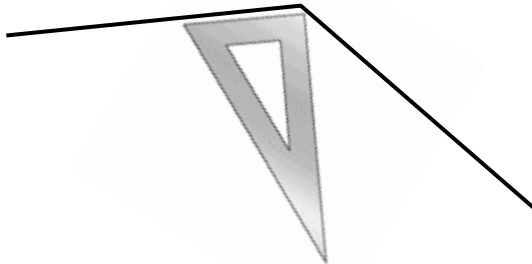
Pour vérifier si un angle est **droit**, on utilise une équerre.



Pour indiquer qu'un angle est droit, on dessine ce petit symbole : 



Un angle **plus grand** que l'angle droit est un angle **obtus**.



Un angle **plus petit** que l'angle droit est un angle **aigu**.

