

Enigme du jour : Si tu me perds, tu tombes. Qui suis-je ?

BONJOUR A TOUS ! VOICI LE TRAVAIL DU JEUDI 2 AVRIL

*Le compte est bon: on doit trouver le résultat avec les 3 opérations: + - X

60

5 - 4 - 6 - 7 - 8

*Conjugaison: Mes amies et moi faisons une photo et nous disons « ouistiti ».

Je

Les touristes

*Grammaire: souligne le verbe en rouge et le sujet en bleu

Avant de partir à l'école, les enfants prennent leur petit-déjeuner.

*Calcul mental: table x9

<https://www.tablesdemultiplication.fr/>

*Vocabulaire : les suffixes (bien lire Je retiens page 238)

1) Forme des noms à partir des adjectifs suivants en ajoutant un suffixe

Ex : pure → pureté

beau →sale →méchant →pauvre →

fidèle →timide →égal →fier →

4) Forme des noms à partir des verbes suivants en ajoutant un suffixe

Ex : charger → chargement

placer →classer →ranger →trembler →

pincer →traiter →siffler → saigner →

Copier 3 fois les mots invariables : *encore - enfin - ensuite - entre - envers*

*Calcul posé : Pose en colonne et calcule : 640 x 9 et 903 x 29

*Géométrie : Les angles droits

Si tu n'as pas d'équerre, voici un tuto pour en fabriquer une très simplement :

<https://www.youtube.com/watch?v=Lw-nXDr2nbw>

Comment vérifier qu'un angle est droit : Outils pour les maths rectangle bleu page 92 et aussi sur le site : <https://lesfondamentaux.reseau-canope.fr/video/reconnaitre-les-angles-droits-dans-une-figure.html>

N°1 p.92 Outils pour les maths

*Jogging d'écriture : *Si j'avais un robot ...*

*lecture : * Le buveur d'encre chapitre 5 pages 26 à 31 (sur ton cahier, écris les n° des questions et vrai/ faux)

Vrai ou faux.

1- Au début, le petit garçon essaie de mentir au vampire. _____

2- Le vampire lit dans les pensées du petit garçon. _____

3- Le buveur d'encre n'a jamais aimé le sang. _____

4- Le vampire est très jeune. _____

5- Il se jette sur le petit garçon. _____

6- Le garçon tombe dans les pommes. _____

Lecture compréhension : Qui est-ce ? les métiers niveaux 2 et 3

<https://www.logicieleducatif.fr/francais/lecture/qui-est-ce-metiers.php>

Mille feuilles pages 42 et 43

Découverte du monde : Espace : les outils du géographe

Numérote sur ton cahier et écris le nom de chaque outil du géographe.

Écris sous chaque illustration de quel outil il s'agit:

une carte, une photographie, une photographie par satellite, un tableau, un graphique en bâtons, un schéma, un texte, un plan, un croquis, un globe terrestre, une courbe, un graphique en camembert.



Vote démocrate en 2004 dans l'Etat de New York par comtés

Comtés urbains		Comtés ruraux	
Erie	56,4	Allegany	34,1
Monroe	50,6	Wyoming	33,8
Onondaga	54,2	Yates	39,3
Albany	60,7	Delaware	41,2
Bronx	50,4	Greene	39,9
New York City			
Kings	74,9	Schoharie	35
Queens	71,7	Hamilton	31,0
Nassau	52,3	Essex	45,8
Brown	52,8	Lewis	35,9

Réalisation: G. BABALLAND, 2006.



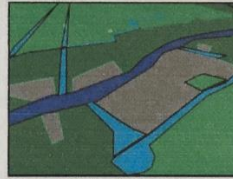
①

②

③

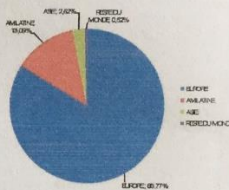
Ce que fait le géographe

Le géographe va sur le terrain, observe et recueille des informations. Il étudie, rassemble et compare des documents. C'est un scientifique qui utilise beaucoup les calculs. Le géographe dispose d'une réalité qu'il peut voir ou mesurer.



■ FLEUVE (MEKONG) ■ VILLAGES ET JARDINS
■ CARREUX ■ RIVERS ■ FORÊT
■ DIGUES

Répartition % de la population en fonction de l'âge (Etat Liban)



④

⑤

⑥



⑦

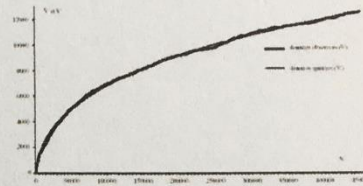
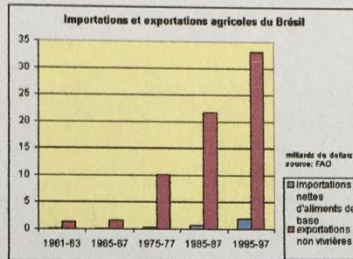


⑧

<http://www.laclassedestef.fr>

Écris sous chaque illustration de quel outil il s'agit:

une carte, une photographie, une photographie par satellite, un tableau, un graphique en bâtons, un schéma, un texte, un plan, un croquis, un globe terrestre, une courbe, un graphique en camembert.

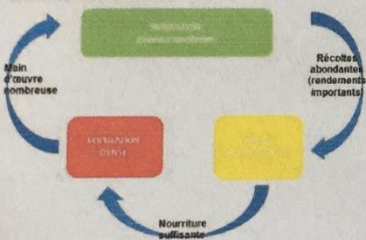


⑨

⑩

⑪

Riziculture et densité de population.



⑫